

*Dossier*  
*A rendre pour le lundi 25 mai 2015*

# « L'Union européenne, des territoires au Monde »

Il s'agira dans ce dossier de comprendre le rôle joué par l'Union européenne à deux échelles. D'abord à l'échelle des territoires en montrant comment elle peut corriger les disparités socio-spatiales. Ensuite à l'échelle mondiale, en montrant comment elle est un acteur et un pôle majeur de la mondialisation.

## **Consignes**

- **inscrivez en haut à gauche de la 1ère page du dossier vos nom et prénom**
- vous veillerez à la propreté du dossier (croquis, schéma, écriture)
- vous respecterez les règles de réalisation des schémas et croquis vus en classe (les grilles de notation déjà distribuées en classe sont disponibles sur le site [h-g.jimdo.com](http://h-g.jimdo.com) dans la rubrique « Réaliser un schéma ou un croquis »)
- rien ne vous interdit de faire des recherches supplémentaires dans votre manuel ou ailleurs
- **Votre dossier sera agrafé ou relié (spirale ou réglette).**

\*

## **Sommaire**

- 1- L'Union européenne : une union d'Etats à géométrie variable
- 2- Disparités et inégalités socio-spatiales : l'action de l'Union européenne sur les territoires
- 3- L'Union européenne, acteur et pôle majeurs de la mondialisation

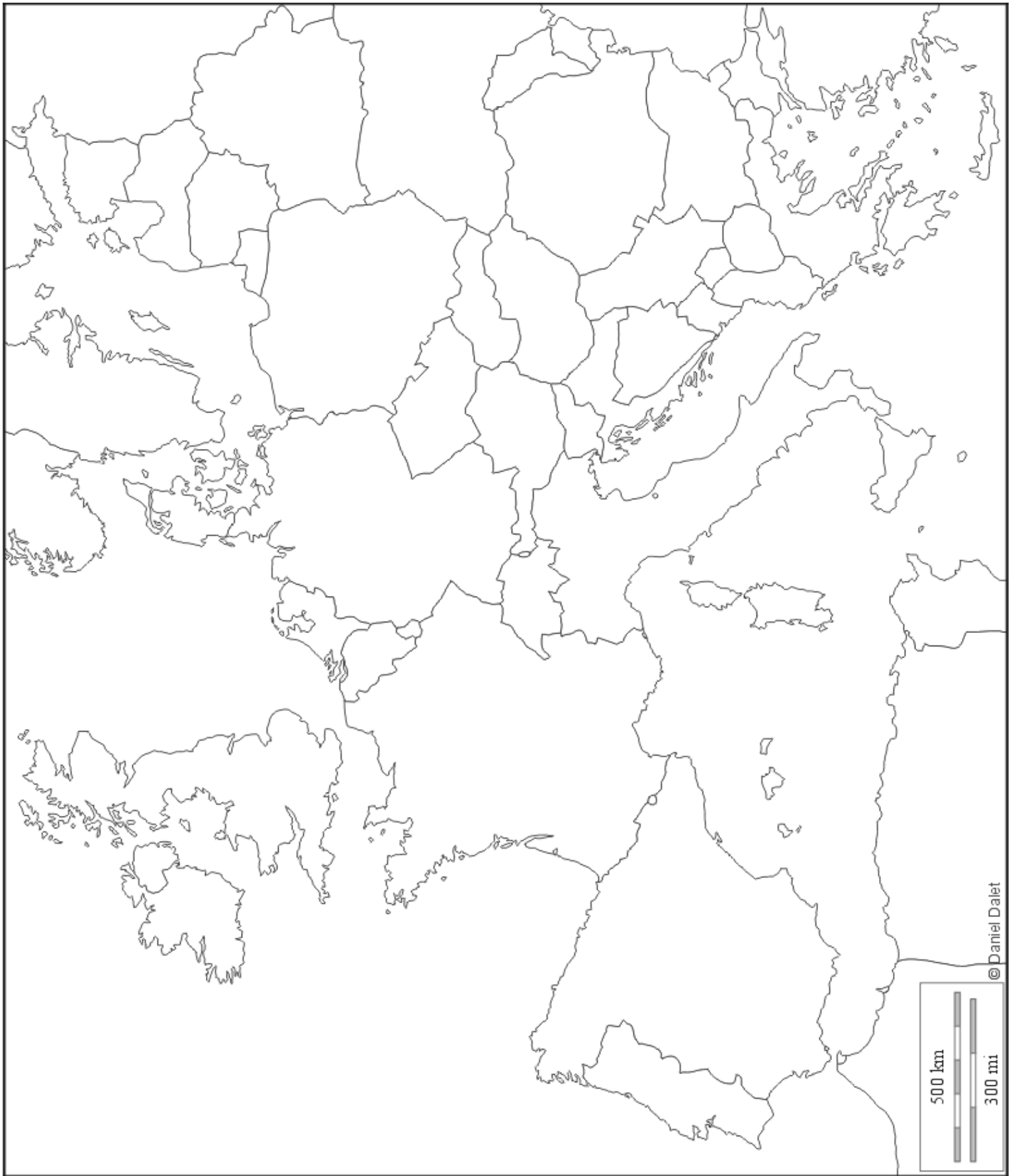
## **Partie 1 : L'Union européenne :** **une union d'Etats à géométrie variable**

**Dans cette première partie, il s'agit de montrer que les limites de l'Union européenne sont multiples.**

Cette partie s'articulera autour d'un croquis que vous réaliserez avec soin.

- \* vous complétez la légende de la p.5
- \* Le titre du croquis est : « L'Union européenne, des frontières et limites complexes »
- \* Votre croquis apparaîtra dans votre dossier en regard de la légende de façon à ce qu'on puisse avoir sous le regard en même temps la légende et le croquis.
- \* Vous prendrez garde à bien choisir les figurés appropriés (linéaires, ponctuels ou de surface) pour que votre croquis reste clair.
- \* Vous indiquerez un maximum d'État dans votre nomenclature mais de façon à ce que votre croquis reste lisible

Pour réaliser ce croquis, vous vous aiderez des cartes de votre livre p. 238, 239, 248 et de la carte de la *Documentation française* sur les élargissements successifs de l'UE disponible à l'adresse suivante : <http://www.ladocumentationfrancaise.fr/dossiers/d000010-l-elargissement-a-l-est-de-l-union-europeenne/carte-de-la-construction-europeenne>



500 km

300 mi

© Daniel Dalet

## Légende

TITRE : .....

### **1°) L'Union Européenne, un processus d'élargissement continu**

#### ***A- Le noyau initial***

Les six Etats fondateurs des années 1950

#### ***B- Les 4 vagues d'élargissement***

1ère vague d'élargissement dans les années 1970, le Etats du Nord-Ouest anglo-saxon

2ème vague d'élargissement dans les années 1980, le Etats du Sud méditerranéen

3ème vague d'élargissement dans les années 1990, les Etats périphériques démocratiques peu peuplés, riches et neutres

4ème vague d'élargissement dans les années 2000, les Etats d'Europe centrale et orientale

#### ***C- Des élargissements futurs ?***

Etats candidats

Candidats potentiels

### **2°) Une volonté inégale d'approfondissement**

Le couple franco-allemand, le moteur de l'Union Européenne

La zone euro, levier majeur d'une intégration politique, économique et sociale des Etats

L'espace Schengen, zone de libre circulation pour tous les citoyens

L'OTAN, une organisation militaire qui place la sécurité des Européens sous la dépendance des Etats-Unis

Le Conseil de l'Europe, une union pour la démocratie et les droits de l'homme

### **3°) Les défis des voisinages et des frontières**

Etats de la politique européenne de voisinage

La Russie, partenaire stratégique de l'Union européenne, puissance régionale et mondiale, actuellement sous tension

L'Union pour la Méditerranée

Micro-Etats n'appartenant pas à l'UE ; souvent des paradis fiscaux aujourd'hui décriés

## Partie 2 : Disparités et inégalités socio-spatiales : l'action de l'Union européenne sur les territoires

Dans cette seconde partie, il s'agit de montrer comment l'Union européenne crée des inégalités entre ses territoires, puis essayent de les réduire par des politiques spécifiques.

1/ Lisez et observez les 2 pages photocopiées ci-après tirées d'un autre manuel (Belin, p. 216 et p. 217). Ces pages sont disponibles en couleurs sur mon site [h-g.jimdo.com](http://h-g.jimdo.com)

2/ Ensuite classez les expressions suivantes dans le tableau ci-dessous que vous recopierez dans votre dossier :

- \* *métropoles de l'UE,*
- \* *régions périphériques de l'UE,*
- \* *zones en dehors du processus de métropolisation,*
- \* *régions intégrées ou influencées par la mégalopole européenne (mégapole européenne = dorsale européenne),*
- \* *Ouest européen,*
- \* *Europe centrale et orientale*

TABLEAU

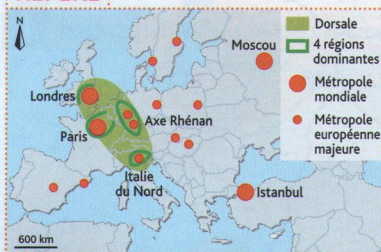
	Territoires gagnants	Territoires perdants
A l'échelle de l'UE		
A l'échelle des régions		
A l'échelle locale		



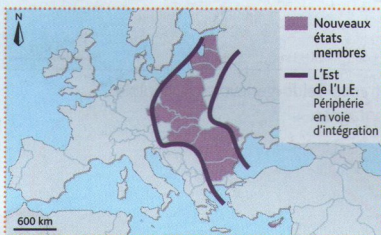
### 3 • Disparités et inégalités des territoires de l'Union européenne

→ Les territoires de l'Europe, compétition ou cohésion?

#### REPÈRE



La dorsale européenne



L'Europe orientale, périphérie en rattrapage

#### VOCABULAIRE

**Gradient** : voir page 208.

**Politique de cohésion** : vise à réduire l'écart de développement entre les régions avancées et celles en retard ou déclin. Outil de solidarité financière et force motrice de l'intégration économique, elle consiste à renforcer la compétitivité, soutenir l'emploi, améliorer la cohésion sociale et protéger l'environnement.

**Espace transfrontalier** : région ou agglomération en situation de périphérie d'un État, marquée par la présence d'une frontière assez ouverte avec des échanges. L'UE a fait des espaces transfrontaliers un point fort de sa politique d'intégration des territoires.

**IDE** : voir page 296.

**Métropolisation** : mouvement accentué de concentration d'activités, de populations, de richesses dans les principales villes.

#### 1. À l'échelle de l'UE : une convergence des niveaux de vie, malgré des inégalités

DOC. 1

► L'Union européenne est caractérisée par un **gradient** de richesse des États, décroissant d'Ouest en Est. En effet, les écarts de richesses et de développement les plus forts s'observent entre les États de l'Ouest européen et les pays d'Europe centrale et orientale ; ces derniers présentaient au moment de leur intégration dans l'UE, des niveaux de richesse et de développement bien inférieurs à ceux des États membres.

► Cependant, cette intégration a permis aux nouveaux États membres de **rattraper progressivement leur retard**. Globalement, les écarts de richesses, à l'échelle des États mesurés par les PIB par habitant, ont diminué. Les **nouveaux adhérents** ont vu leurs revenus augmenter et leur poids économique se renforcer.

#### 2. À l'échelle régionale : régions gagnantes, régions perdantes, des écarts creusés

DOC. 2

► Au sein de l'Union, l'**extension d'un marché unique de libre échange, de libre circulation et de concurrence** a favorisé la **concentration économique** dans les régions les plus riches au détriment des régions plus pauvres ; les **inégalités entre les régions se sont creusées**. Aux **marges orientales de l'UE** se situent les **régions les plus pauvres** ; il s'agit des régions frontalières avec la Russie, la Biélorussie, l'Ukraine et la Moldavie. Elles contrastent avec les régions occidentales tchèques, slovaques, hongroises frontalières de l'Autriche ou de l'Allemagne dont la proximité stimule le développement.

► Face à ces tendances, la **politique de cohésion régionale** affirme des liens de solidarités entre des territoires communautaires. **L'UE consacre plus d'un tiers de son budget à sa politique de cohésion**, qui redistribue les capacités financières des régions les plus riches vers les plus pauvres (84 régions et 154 millions d'habitants). L'Europe promeut également dans le cadre de cette politique les **solidarités transfrontalières entre des espaces de proximité**, entre des régions mais aussi de **vastes espaces de coopération** (par exemple Danube ou Baltique, voir dossier pages suivantes).

#### 3. Les métropoles, un poids renforcé

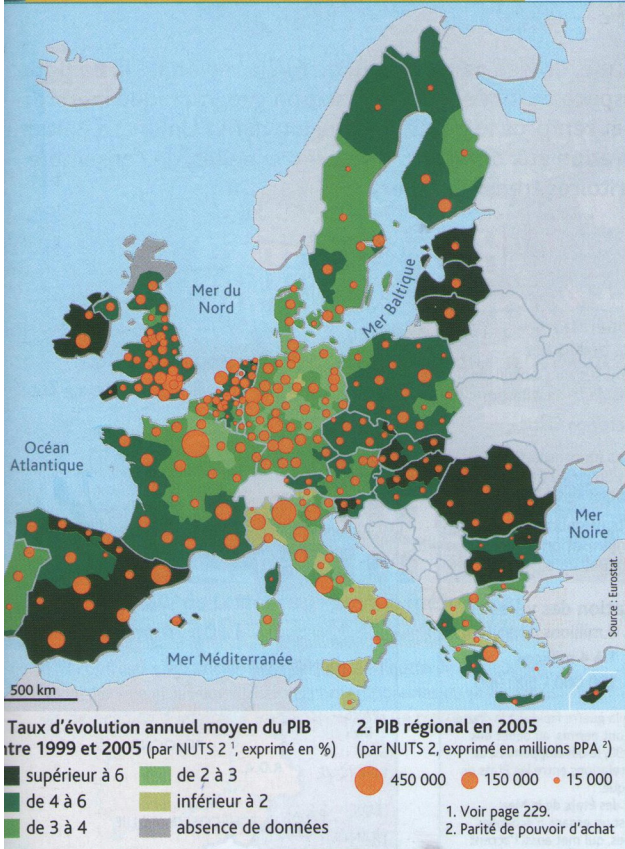
DOC. 3

► Les **grandes métropoles mondiales**, comme Londres ou Paris, mais également les **métropoles des pays d'Europe centrale et orientale polarisent l'essentiel des investissements et des richesses** et creusent l'écart avec les régions environnantes (Budapest concentre 45 % des salariés nationaux des services, 45 % de la population urbaine du pays et 70 % des **IDE**). Ces régions bénéficient de leur **position centrale**, d'avantages de dessertes avec le renforcement des réseaux ou des aéroports modernisés dans le cadre de l'augmentation des trafics aériens.

► Ce **processus de métropolisation** n'est pas sans conséquences sur l'évolution interne des villes elles-mêmes : **émergence de nouveaux centres d'affaires, valorisation du patrimoine historique** et culturel des centres villes comme volonté d'affirmation de l'appartenance à l'espace culturel européen (art baroque à Prague, art nouveau à Riga). À l'opposé, se renforcent les **processus de ségrégation et de fragmentation des territoires urbains**, générateurs d'exclusions sociales.



1 Le poids économique des régions européennes

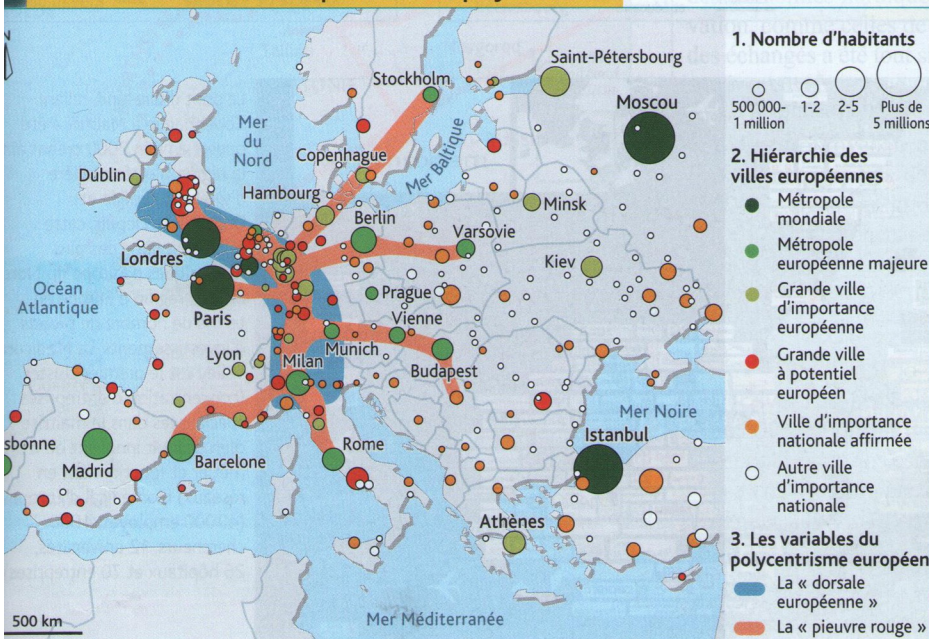


2 Les régions européennes aidées par les fonds structurels



Les fonds de convergence visent à soutenir la croissance et l'emploi dans les régions dont le PIB est inférieur à 75 % de la moyenne de l'UE-27.

3 La hiérarchie des villes européennes et le polycentrisme



**1 Repérez les inégalités des territoires de l'UE (États, régions et métropoles). À l'échelle de l'Europe, localisez les espaces de richesses et de pauvreté. Comment a évolué le PIB dans les régions situées en périphérie de l'UE? doc. 1**

**2 Décrivez l'action de l'UE en matière de réduction des inégalités. doc. 2**

**3 Analysez la carte. Montrez la hiérarchie des villes européennes et expliquez sur quels éléments celle-ci se fonde. doc. 3**

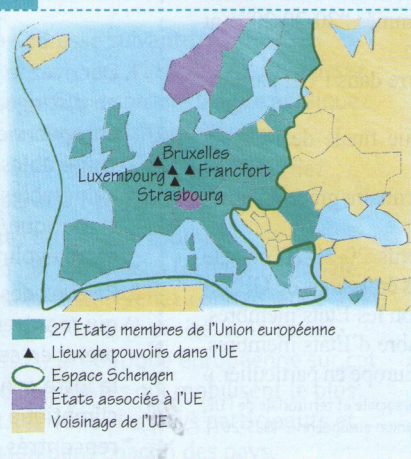


## Schémas et croquis de synthèse

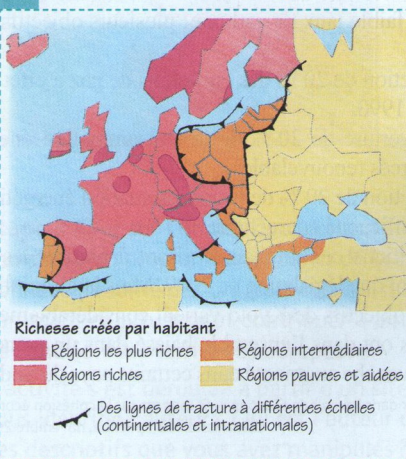
### 1 Centres et périphéries de l'Europe



### 2 Le puzzle européen



### 3 Les inégalités de richesse en Europe





3/ A partir des trois pages photocopées du manuel Belin (en particulier, les deux petits schémas p. 216 et carte 1 p. 221), construisez un nouveau croquis avec le fond de carte p.12 en repérant :

\* les territoires gagnants en :

- séparant par une ligne verte l'Ouest européen de l'Europe centrale et orientale
- coloriant en rouge la dorsale européenne
- coloriant en orange les espaces intégrés au centre, c'est-à-dire à la dorsale européenne
- localisant les métropoles européennes majeures par des cercles rouges

\* les territoires perdants en :

- séparant par une ligne verte l'Ouest européen de l'Europe centrale et orientale
- coloriant en jaune les régions en périphérie entre retard de développement et rattrapage

Vous recopierez le titre et la légende ci-dessous :

<p><b><u>LEGENDE</u></b></p> <p><b><u>TITRE : L'Union européenne, territoires gagnants et territoires perdants</u></b></p> <p><b><u>1°) Les territoires gagnants</u></b></p> <p>L'Ouest européen, développé et riche</p> <p>La dorsale, moteur économique du continent</p> <p>Les espaces intégrés au centre, dynamisés par les dorsale européenne</p> <p>Les métropoles européenne majeure : elles polarisent les investissements et les richesses et creusent les écarts avec les régions environnantes</p> <p><b><u>2°) Les territoires perdants</u></b></p> <p>L'Est européen, en voie d'intégration</p> <p>Les régions en périphérie entre retard de développement et rattrapage</p>
---

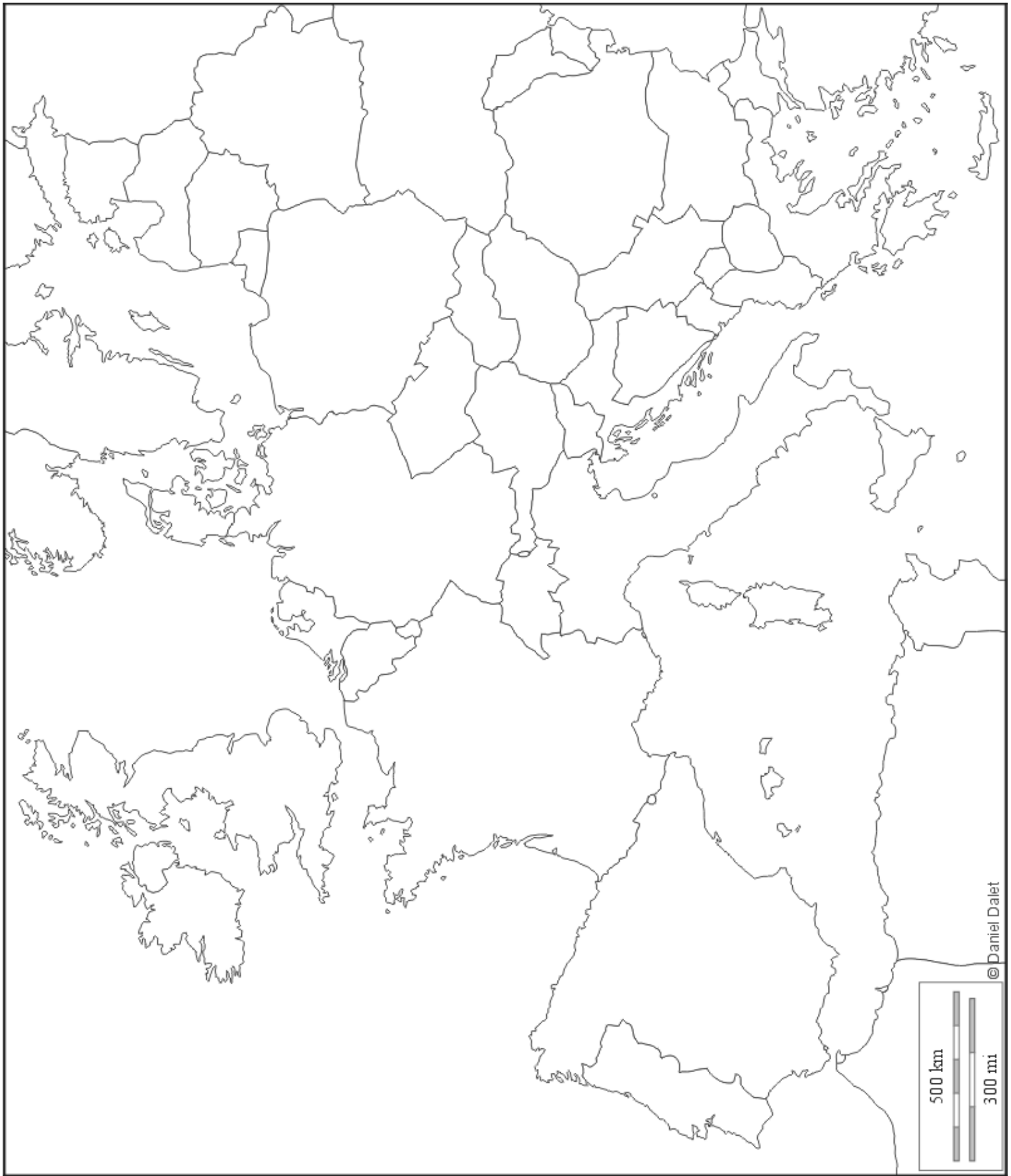
4/ A partir de la page 216 photocopée du manuel Belin et de recherches personnelles, décrivez en quelques lignes l'action de l'UE en matière de réduction des inégalités entre ses territoires (minimum 10 lignes)

.....

.....







**Partie 3 : L'Union européenne,**  
**dans la mondialisation**

Dans cette troisième partie, il s'agit de mesurer la place et le rôle de l'Union européenne dans la mondialisation. L'étude de la Northern Range, la plus grande façade maritime du monde sera menée.

1/ Définissez à l'aide de votre manuel :

\* mondialisation :

.....

.....

.....

.....

\* Triade

.....

.....

.....

.....

\* interface

.....

.....

.....

.....

\* façade maritime

.....

.....

.....  
.....  
\* hinterland  
.....  
.....  
.....  
.....

\* feederinq  
.....  
.....  
.....  
.....

2/ Répondez aux questions de votre livre p. 316-317 (dossier documentaire sur Zara et H&M), y compris le bilan

Question 1 :

.....  
.....  
.....  
.....  
.....  
.....  
.....  
.....  
.....  
.....





.....

Question 3 :

.....

.....

.....

.....

.....

.....

.....

.....

.....

.....

.....

.....

.....

.....

.....

Question 4 :

.....

.....

.....

.....









.....

.....

.....

.....

.....

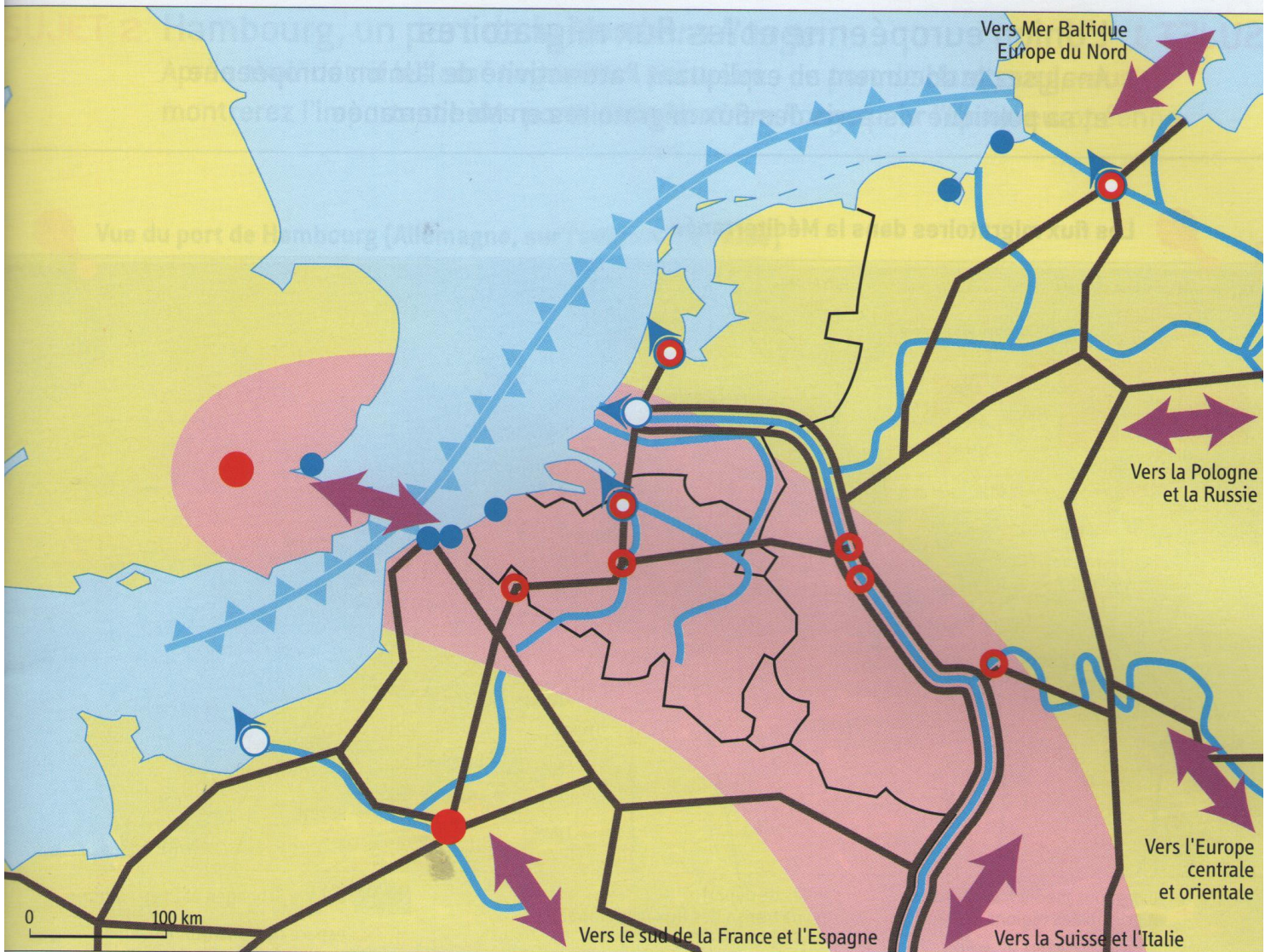
.....

.....

4/ Complétez le croquis de la Northern Range joint à ce dossier directement sur la page photocopiee (ne recopiez pas le croquis, repassez les figurés au crayon feutre ou au stylo)



## SUJET 2 Une façade maritime mondiale : la Northern Range



Une puissante façade maritime...	...Bien reliée à son arrière pays...	...Au cœur de la puissance de l'UE
..... Voie maritime majeur	..... Principale voie navigable	..... Villes mondiales
..... Port maritime principal	..... Axes terrestres majeurs (voies ferrées, autoroutes)	..... Autres métropoles
..... Autres ports maritimes	..... Connexions avec d'autres territoires de l'UE	..... Dorsale européenne : foyer de peuplement et d'activités
..... Interface avec le reste du monde		